









1.



Zapiš znázorněný zlomek:

1)  _____ 6)  _____



2)  _____ 7)  _____



3)  _____ 8)  _____



4)  _____ 9)  _____



5)  _____ 10)  _____



Znázorni zapsaný zlomek:

11)  $\frac{6}{8}$ 16)  $\frac{5}{8}$

12)  $\frac{3}{8}$ 17)  $\frac{4}{5}$



13)  $\frac{4}{5}$ 18)  $\frac{1}{2}$



14)  $\frac{3}{5}$ 19)  $\frac{3}{5}$



15)  $\frac{2}{3}$ 20)  $\frac{1}{3}$



2.



Zapiš znázorněný zlomek:

1)  _____ 6)  _____

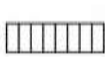

2)  _____ 7)  _____



3)  _____ 8)  _____



4)  _____ 9)  _____



5)  _____ 10)  _____



Znázorni zapsaný zlomek:

11)  $\frac{5}{8}$ 16)  $\frac{4}{5}$

12)  $\frac{3}{5}$ 17)  $\frac{2}{5}$



13)  $\frac{3}{4}$ 18)  $\frac{2}{4}$



14)  $\frac{4}{5}$ 19)  $\frac{1}{2}$



15)  $\frac{1}{8}$ 20)  $\frac{1}{4}$



3.



Zapiš znázorněný zlomek:

1)  _____ 6)  _____



2)  _____ 7)  _____



3)  _____ 8)  _____



4)  _____ 9)  _____



5)  _____ 10)  _____

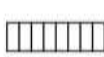

Znázorni zapsaný zlomek:

11)  $\frac{6}{8}$ 16)  $\frac{3}{4}$

12)  $\frac{4}{5}$ 17)  $\frac{2}{3}$



13)  $\frac{2}{5}$ 18)  $\frac{1}{2}$



14)  $\frac{3}{5}$ 19)  $\frac{1}{3}$



15)  $\frac{5}{8}$ 20)  $\frac{1}{8}$



4.



Zapiš znázorněný zlomek:

1)  _____ 6)  _____



2)  _____ 7)  _____



3)  _____ 8)  _____



4)  _____ 9)  _____



5)  _____ 10)  _____



Zakresli daný zlomek:

11)  $\frac{2}{3}$ 16)  $\frac{6}{8}$

12)  $\frac{3}{5}$ 17)  $\frac{5}{8}$





















13)  $\frac{3}{8}$ 18)  $\frac{1}{5}$

14)  $\frac{3}{5}$ 19)  $\frac{1}{3}$





















15)  $\frac{4}{5}$ 20)  $\frac{3}{4}$

Zapiš znázorněné zlomky





















1.

1)		_____	6)		_____
2)		_____	7)		_____
3)		_____	8)		_____
4)		_____	9)		_____
5)		_____	10)		_____
11)		_____	16)		_____
12)		_____	17)		_____
13)		_____	18)		_____
14)		_____	19)		_____
15)		_____	20)		_____





















2.

1)		_____	6)		_____
2)		_____	7)		_____
3)		_____	8)		_____
4)		_____	9)		_____
5)		_____	10)		_____
11)		_____	16)		_____
12)		_____	17)		_____
13)		_____	18)		_____
14)		_____	19)		_____
15)		_____	20)		_____

3.

1)		_____	6)		_____
2)		_____	7)		_____
3)		_____	8)		_____
4)		_____	9)		_____
5)		_____	10)		_____
11)		_____	16)		_____
12)		_____	17)		_____
13)		_____	18)		_____
14)		_____	19)		_____
15)		_____	20)		_____

4.

1)		_____	6)		_____
2)		_____	7)		_____
3)		_____	8)		_____
4)		_____	9)		_____
5)		_____	10)		_____
11)		_____	16)		_____
12)		_____	17)		_____
13)		_____	18)		_____
14)		_____	19)		_____
15)		_____	20)		_____