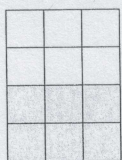


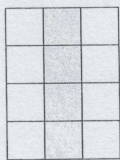
Část, zlomek, desetinné číslo

1 Zapiš zlomkem vybarvenou část obdélníku. Hledej různá řešení.

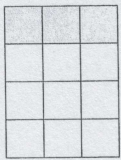
a)




b)




c)




d)



e)




f)




2 Vybarvi.

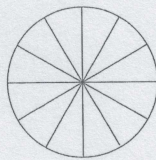
a) $\frac{4}{12}$



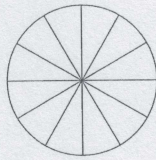
b) $\frac{2}{4}$



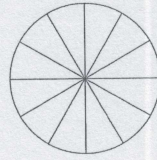
c) $\frac{2}{3}$



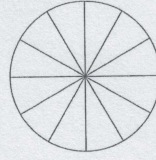
d) $\frac{5}{6}$



e) $\frac{1}{3}$



f) $\frac{1}{6}$




3 Vyřeš.

a) Třetina kvítků v kytici je červená. Šest kvítků je žlutých.
Kytice má celkem _____ červených a žlutých kvítků.

b) Tři pětiny kvítků jsou červené. Osm kvítků je žlutých.
Kytice má celkem _____ červených a žlutých kvítků.

c) Dvě čtvrtiny kvítků jsou červené. Třetina žlutá a tři kvítky jsou modré.
Kytice má celkem _____ červených, žlutých a modrých kvítků.



4 Vypočítej písemně.

a)

$$\begin{array}{r} 99\ 848 \\ -98\ 741 \\ \hline \end{array}$$

b)

$$\begin{array}{r} 66\ 327 \\ -63\ 900 \\ \hline \end{array}$$

c)

$$\begin{array}{r} 92\ 758 \\ -85\ 009 \\ \hline \end{array}$$

d)

$$\begin{array}{r} 613\ 789 \\ -589\ 630 \\ \hline \end{array}$$

e)

$$\begin{array}{r} 53\ 524 \\ -29\ 635 \\ \hline \end{array}$$

Zapiš třetinu výsledku:

a) _____

b) _____

c) _____

d) _____

e) _____